

**Всероссийский конкурс
«Путешествие в шахматное королевство»
(для учащихся 3-4 классов)**

Ответы

Ответ должен быть представлен строго в виде **ОДНОГО СЛОВА**, **БУКВЫ** или **ЧИСЛА** (согласно условию задания) без кавычек, точек, орфографических ошибок. Некоторые вопросы содержат подсказку – буквы ответа. Букву «ё» можно писать как «е» или как «е». Неверно записанные ответы не учитываются.

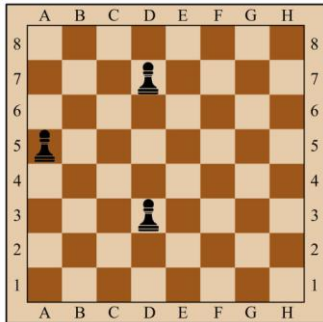
Задание №1		Ответ
<p>Шахматы – военная игра, в ней сражаются две армии – белая и чёрная. Они вступают в сражение между собой, стремясь захватить короля противника и всё его королевство. А как называется поле битвы в шахматах?</p> <p>1. Шахматная доска 2. Шахматная площадка 3. Шахматное поле</p> <p><i>В ответе напиши только номер выбранного варианта (1 или 2 или 3)</i></p>		<p align="center">1 Шахматная доска</p>
<p>Задание №2</p> <p>Самый маленький солдат в шахматной армии. У него не получается ходить очень далеко, и вообще он может двигаться только вперёд. За один ход наш пехотинец может переместиться лишь на одну клетку. В ответе запиши название шахматной фигуры.</p> <p align="center">- - - - -</p> <p><i>В ответе запиши название шахматной фигуры</i></p>		<p align="center">Пешка</p>
<p>Задание №3</p> <p align="center"><i>Прыг-скок и за угол</i></p> <p>У этой шахматной фигуры самый сложный ход. Фигура не ходит ни по прямым линиям, ни по диагоналям и вообще не перемещается в одном направлении, она ходит буквой Г. Есть у этого шахматного бойца ещё одна уникальная способность – он может перепрыгивать через фигуры.</p> <p align="center">- - - - -</p> <p><i>В ответе запиши название шахматной фигуры</i></p>		<p align="center">Конь</p>
<p>Задание №4</p> <p>Около названий шахматных фигур рассеянная Женя их нарисовала. Во всех ли случаях с ней можно согласиться? Если какая-нибудь из фигур нарисована неправильно, запиши её номер в ответ.</p> <p><i>В ответе напиши только номер выбранного варианта (1 или 2 или 3 или 4)</i></p>		<p align="center">2</p>

Задание №5		Ответ
<p>Все шахматные дорожки и поля имеют свои обозначения. Как называются ряды полей, идущие слева направо на шахматной доске, обозначаются цифрами.</p> <p>1. Вертикали 2. Горизонталы 3. Диагонали</p> <p><i>В ответе напиши только номер выбранного варианта (1 или 2 или 3)</i></p>		<p>2 Горизонталы</p>
Задание №6		Ответ
<p>Сколько фигур у каждого игрока в начале игры?</p> <p>1. 16 2. 12 3. 14</p> <p><i>В ответе напиши только номер выбранного варианта (1 или 2 или 3)</i></p>		<p>1 16</p>
Задание №7		Ответ
<p>Какая шахматная фигура спряталась в слове «ЗАСЛОНКА»?</p> <p>— — — —</p> <p><i>В ответе запиши название шахматной фигуры</i></p>		<p>Слон</p>
Задание №8		Ответ
<p>Рассеянная Женя узнала, что ладья обозначается буквой Л, слон – С, ферзь – Ф, конь – К, король – Кр, а пешка – п. И всё же при записи она сделала ошибку. Найди неверное обозначение.</p> <p><i>В ответе напиши только номер выбранного варианта (1 или 2 или 3 или 4)</i></p>	<p>1. ладья - Л 3. слон - С 2. пешка - П 4. конь - Кр</p>	<p>4</p>
Задание №9		Ответ
<p>Отгадай загадку. Вперёд и назад ходит браво, Помчится налево, направо. Ту фигуру знаю я, Ведь зовут её...</p> <p>— — — —</p> <p><i>В ответе запиши название шахматной фигуры</i></p>		<p>Ладья</p>
Задание №10		Ответ
<p>Все шахматные дорожки и поля имеют свои обозначения. Как называются ряды полей, идущие снизу вверх на шахматной доске, обозначаются буквами.</p> <p>1. Вертикали 2. Горизонталы 3. Диагонали</p> <p><i>В ответе напиши только номер выбранного варианта (1 или 2 или 3)</i></p>		<p>1 Вертикали</p>

Задание №11		Ответ
<p>Во всех этих словах томат, матрос, матрёшка, формат, мать спряталось шахматное слово. Найди его.</p> <p style="text-align: center;">— — —</p> <p><i>В ответе запиши только одно слово</i></p>		Мат
<p>Задание №12</p> <p>Человечек из театра Карабаса Барабаса – «весь клетчатый, как шахматная доска».</p> <p style="text-align: center;">— — — e — — —</p> <p><i>В ответе запиши имя сказочного персонажа</i></p>		Арлекин
<p>Задание №13</p> <p>Вспомни названия шахматных фигур и впиши их правильно в клеточки кроссворда.</p> <p><i>В ответе запиши получившееся в красных клеточках слово</i></p>		Король
<p>Задание №14</p> <p>Злой волшебник похитил фигуру. Догадайся, какой фигуры не хватает на картинке.</p> <p><i>В ответе запиши название фигуры</i></p>		Король
<p>Задание №15</p> <p>Все шахматные дорожки и поля имеют свои обозначения. Как называются косые линии, идущие от одного края доски к другому, состоят из полей одного цвета.</p> <ol style="list-style-type: none"> 1. Вертикали 2. Горизонталы 3. Диагонали <p><i>В ответе напиши только номер выбранного варианта (1 или 2 или 3)</i></p>		3 Диагонали
<p>Задание №16</p> <p>Белая пешка упала с доски. На какое поле нужно поставить пешку так, чтобы чёрная фигура была под ударом.</p>  <ol style="list-style-type: none"> 1. E7 2. F5 3. G6 4. E5 <p><i>В ответе напиши только номер выбранного варианта (1 или 2 или 3 или 4)</i></p>		<p style="text-align: center;">4 E5 и G5</p> <p>Пешки бьют по диагонали, они не могут ударить по горизонтали, вперед или назад. Рубить назад по диагонали пешка не имеет права.</p>

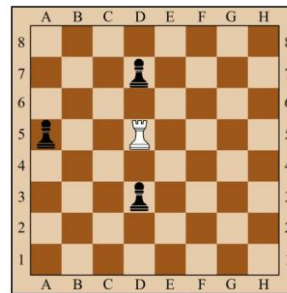
Задание №17

Белая ладья упала с доски. Выбери клетку, на которую нужно поставить ладью, чтобы **все** чёрные фигуры были под ударом.



1. D1
2. D5
3. H5
4. A4

В ответе напиши только номер выбранного варианта (1 или 2 или 3 или 4)



2
D5

Ладья ходит и бьет фигуры по вертикалям и горизонталям

Задание №18

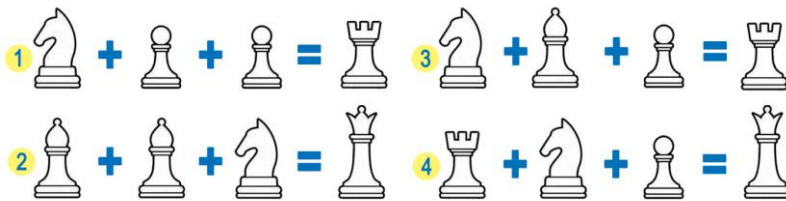
Женя узнала, что каждая шахматная фигура имеет свою относительную цену.

За единицу принята ценность пешки: ♟ = 1.

Приблизительно, ценность фигур такова:

конь = 3, слон = 3, ладья = 5, ферзь = 9

Найди неправильное равенство.



В ответе напиши только номер выбранного варианта (1 или 2 или 3 или 4)

3


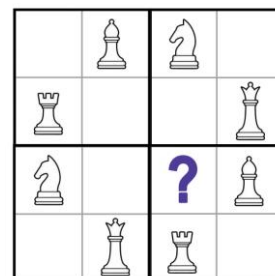
Задание №19

«Судоку». Женя начала вписывать в пустые клетки изображения ферзей, ладей, слонов и коней так, чтобы ни по горизонтали, ни по вертикали они не повторялись. Внутри каждого из четырёх выделенных малых квадратов фигуры также не должны повторяться. Закончи работу.

Какая фигура окажется на месте вопросительного знака?

1. Ферзь
2. Ладья
3. Слон
4. Конь

В ответе напиши только номер выбранного варианта (1 или 2 или 3 или 4)

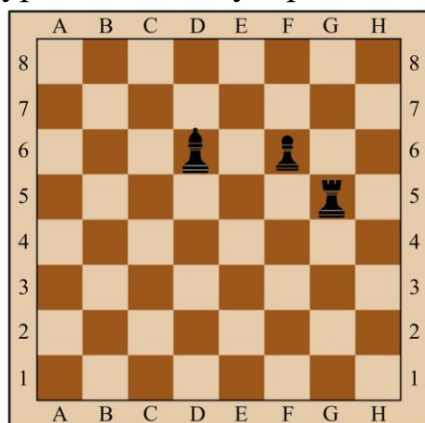


Ответ

1
Ферзь

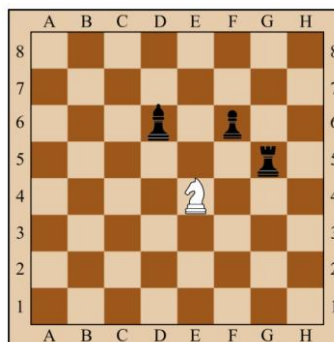
Задание №20

Белый конь упал с доски. Выбери клетку, на которую нужно поставить коня, чтобы **все** чёрные фигуры были под ударом.



1. D2
2. F3
3. E4
4. H7

В ответе напиши только номер выбранного варианта (1 или 2 или 3 или 4)



**3
E4**

Уважаемые ребята, родители и координаторы!

Мы будем очень благодарны Вам за оставленный отзыв о конкурсе.

Нам очень важно знать ваше мнение о конкурсных заданиях. Что нового вы узнали, участвуя в конкурсе? Какие задания показались лёгкими? А какие самыми сложными? Что вам не понравилось? Хотели бы вы ещё участвовать в подобных конкурсах?

Ждём все Ваши предложения, пожелания и замечания на наши электронные адреса: unikum.konkurs@yandex.ru и mir-konkursov2008@yandex.ru